

NOM :
 Prénom :

Date : . / . / .



COUPE du monde 2010



notre planète : habitants et nations

	CONTINENTS	NOMBRE d'HABITANTS	SUPERFICIE, en km ² (kilomètres carrés)	Nombre de NATIONS	N ^{bre} de nations engagées pour la COUPE du MONDE 2010	N ^{bre} de nations qualifiées pour la PHASE FINALE
les CONTINENTS	Afrique	990 000 000	30 000 000	54	52 + 1	6
	Amérique	930 000 000	42 000 000	35	45	8
	Asie	4 100 000 000	45 000 000	48	43	4
	Europe	730 000 000	10 500 000	46	53	13
	Océanie	35 000 000	9 000 000	15	10	1
	Antarctique	*0	13 500 000			
TOTAUX →		x	y	a	b	c

* plus quelques chercheurs scientifiques internationaux (français, américains, russes, norvégiens, anglais...)

A. Bien des bizarreries !


- a) Calcule les totaux, cases **a**, **b** et **c** du tableau ci-dessus.
 b) Compare les résultats des cases **a** et **b**. Ta conclusion :

- Le continent le plus peuplé... est celui qui a le plus de nations qualifiées.
 n'est pas du tout celui qui a le plus de nations qualifiées.
- a) Le continent ayant le plus de nations qualifiées pour la Coupe du monde 2010 est :
 b) Ce continent est le... 1^{er} - 2^{ème} - 3^{ème} - 4^{ème} - 5^{ème} continent le plus peuplé (entoure).


B. Calcule les totaux, cases x et y. Colorie ensuite la part (le pourcentage) de chaque continent en ce qui concerne sa population et sa superficie dans ces deux quadrillages.

► Code couleurs Afrique noir Amérique vert Asie jaune Europe rouge Océanie Marr. Antarctique bleu

Répartition de la POPULATION par continent, en pourcentage (ex. : Afrique : 990 millions d'hab., c'est 14,5% des habitants de la Terre → 14,5 carreaux)



Répartition de la SUPERFICIE par continent, en pourcentage (ex. : Afrique : 30 millions de km², c'est 20% de la superficie des terres émergées → 20 car.)



NOM :
 Prénom :

Date : . / . / .

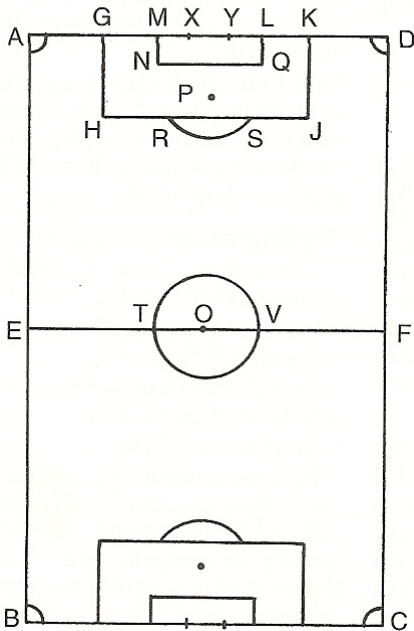


COUPE du monde 2010



Le terrain de jeu

Le terrain de foot



Les rencontres de football se disputent sur des terrains extérieurs, plats et horizontaux.

Le terrain a la forme d'un rectangle.

1. Repasse avec des stylos feutres :

- en rouge les lignes de touche [AB] et [DC] ;
- en vert les lignes de but [AD] et [BC] ;
- en noir la ligne médiane qui sépare les deux camps et donne son nom : [.....] ;
- en orange les deux arcs de cercle RS.

2. Colorie avec des crayons de couleur :

- en vert foncé les quatre secteurs angulaires aux coins A, B, C et D du terrain ; ce sont des angles
- en bleu le rond central qui est un cercle de centre O ;
- en vert clair les deux surfaces de but rectangulaires MNQL.
- en vert foncé les deux surfaces de réparation GHJK.

3. Nom de tous les segments différents sur la ligne médiane [FE] (voir terrain ci-dessus) :

ex. : [ET]

4. Nombre de rectangles différents sur la pelouse d'un terrain de football (voir terrain ci-dessus) : ...

Nom d'un segment de la ligne de but composé de deux segments élémentaires : [.....]

Nom d'un segment de la ligne de but composé de cinq segments élémentaires :

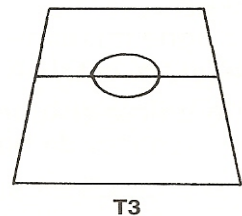
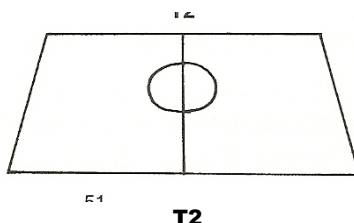
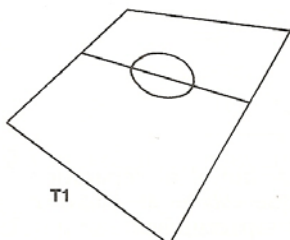
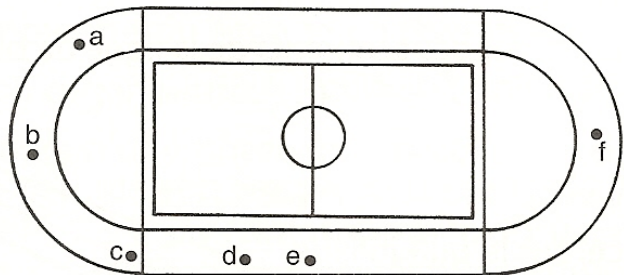
5. Se situer...

La figure ci-contre représente le plan d'un stade. On y voit le terrain de foot qui n'est pas complètement tracé et les tribunes.

* Pour voir le terrain avec la forme T1, dans la tribune je serai assis au point ...

* Pour voir le terrain avec la forme T2, dans la tribune je serai assis au point ...

* Pour voir le terrain avec la forme T3, dans la tribune je serai assis au point ...



NOM :
Prénom :

Date : . / . / .



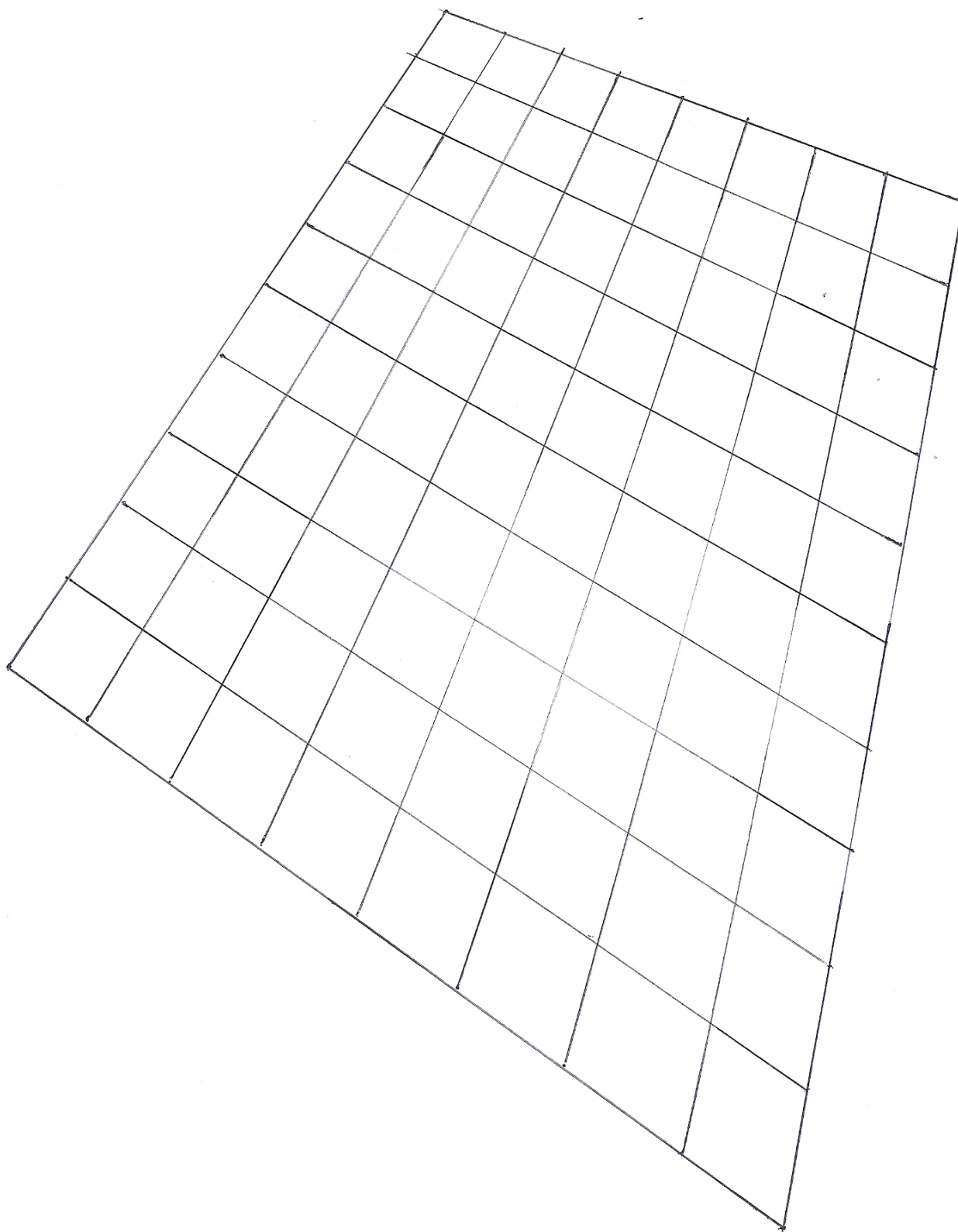
COUPE du monde 2010



6. Voici la représentation quadrillée d'un terrain de football déformée par l'effet de perspective.

- a) Trace sur le quadrillage :
- les deux **lignes de touche** en rouge ;
 - les deux **lignes de but** en bleu ;
 - la **ligne médiane** en noir.

- b) Complète ensuite le terrain **en coloriant** :
- en vert clair les deux **surfaces de but**
 - en vert foncé les deux **surfaces de réparation**



NOM :

Prénom :

Date : . / . / .



COUPE
du monde 2 010



LA VIEILLE HISTOIRE DU FOOTBALL

La Coupe du monde a lieu tous les quatre ans. Depuis sa création, de plus en plus de pays y participent. Pour la Coupe du monde 1 998 en France, 172 pays avaient joué 639 matches qui avaient désigné 30 équipes. Pour la Coupe du monde 2 010 en Afrique du Sud, 202 pays ont joué 851 matchs pour qualifier 31 équipes. Mais cela n'en a pas toujours été ainsi...

Naissance du football



Début d'une « soule », au Moyen Âge

Le football existait déjà en Chine il y a plus de 2 000 ans ! Les règles n'étaient bien sûr pas les mêmes que celles de maintenant, mais courir après un ballon est l'un des sports favoris de l'homme depuis très longtemps.

Avant Jésus-Christ, les Grecs et les Romains jouaient à l'*harspastum* (ancêtre du rugby).

En Angleterre, on jouait déjà au ballon au Moyen Âge. Mais le jeu, appelé « soule », était alors si violent que des joueurs mouraient parfois pendant la partie. Le ballon pouvait être une vessie de porc ou... la tête d'un ennemi !

C'est en Angleterre que les règles du football moderne ont été écrites.

Jules RIMET, « père » de la Coupe du monde

Jules Rimet est né le 24 octobre 1 873 à Cheulay (département de la Haute-Saône). Il était d'origine modeste. En 1 897, il créa le club du Red Star de Paris, pour permettre aux hommes de toutes les classes sociales⁽¹⁾ de se rapprocher (riches et pauvres, ouvriers et bourgeois).

Il rêvait d'organiser une compétition entre les meilleures équipes nationales de football ; son rêve se réalisa en 1 930, année de la première Coupe du monde de football. Jules Rimet ne reçut pas le prix Nobel de la Paix⁽²⁾ malgré ce qu'il fit pour la paix entre les peuples à travers le sport. Il est mort en 1 956.

Depuis 1 946, la coupe du monde porte son nom : la « **coupe Jules-Rimet** ». Elle est en or massif. Haute de 36 cm, elle pèse 4 970 grammes.

1 930

La première Coupe se disputa en 1 930 en **Uruguay** (Amérique du sud) car ce pays avait été champion olympique de football en 1 924 et 1 928. Treize pays seulement étaient invités !

Pour se rendre en Uruguay, l'équipe de France avait traversé l'Atlantique en paquebot⁽³⁾ en 16 jours. Sur ce paquebot, se trouvaient aussi les équipes de Roumanie, de Belgique, puis du Brésil après l'escale de Rio de Janeiro.

Le premier match de la première Coupe du monde opposa la France au Mexique (4-1).

En 1 930, il y avait en France 124 000 joueurs de football⁽⁴⁾ licenciés dans 3 600 clubs.

Cette année-là, la Terre était peuplée de 2 milliards d'habitants, dont 41 millions de Français. C'est aussi une année d'exploits aéronautiques : Jean Mermoz relie la France au Brésil (Amérique du Sud) en passant par le Sénégal (Afrique) ; Coste et Bellonte traversent l'Atlantique nord en 37 h 18 min dans le sens France – Etats-Unis ; des ingénieurs font voler le premier avion à réaction... L'équipe de France de tennis remporte la Coupe Davis et Jules Ladoumègue bat le record du monde du 1 500 mètres en 3 min 49 s 2/10. En 1 930, un astronome américain découvre par le calcul Pluton, une planète naine de notre système solaire.

(1) **Une classe sociale** : un groupe de personnes qui ont le même genre d'activités et de vie.

(2) **Le prix Nobel de la Paix** : récompense attribuée chaque année à quelqu'un qui a œuvré pour la paix.

(3) **Un paquebot** : grand bateau qui transporte des passagers d'un pays à un autre.

(4) **En 2 010**, il y a, en France, environ 2 000 000 de **footballeurs** licenciés.

NOM :
 Prénom :

Date : . / . / .



COUPE du monde 2 0 1 0

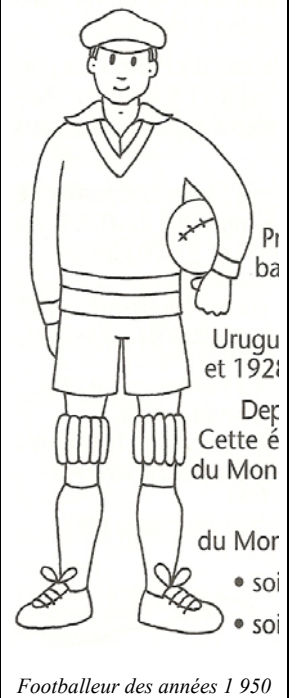


Depuis 1 930

**Tableau
des NATIONS
ORGANISA-
TRICES
de la Coupe du
monde, par
année
et par continent.**

**Colorie
sur le
planisphère
ci-dessous
chaque pays
organisateur
d'une couleur
différente.**

1 930		Uruguay (1)	Amérique
1 934		Italie (2)	Europe
1 938		France (3)	Europe
1 950		Brésil (4)	Amérique
1 954		Suisse (5)	Europe
1 958		Suède (6)	Europe
1 962		Chili (7)	Amérique
1 966		Angleterre (8)	Europe
1 970		Mexique (9)	Amérique
1 974		Allemagne (10)	Europe
1 978		Argentine (11)	Amérique
1 982		Espagne (12)	Europe
1 986		Mexique	Amérique
1 990		Italie	Europe
1 994		Etats-Unis (13)	Amérique
1 998		France	Europe
2 002		Corée du Sud (14) et Japon (15)	Asie
2 006		Allemagne	Europe
2 010		Afrique du Sud (16)	Afrique
2 014		Brésil	Amérique



(1) Voir la situation du pays sur le planisphère ci-dessous.



- Qu'est-ce qui fait la fierté de la France au sujet de la Coupe du monde (voir texte « vieille HISTOIRE... ») ?
Ce qui fait, c'est
- Pays ayant organisé la Coupe du monde deux fois ?
Nombre d'années entre les deux organisations... **françaises** : — **mexicaines** : — **brésiliennes** :
- Recherche : - le président de la République française au moment de la Coupe du monde de 1 938 :
- le président de la République française au moment de la Coupe du monde de 1 938 :
- Recherche : Pourquoi n'y a-t-il pas eu de Coupe du monde en 1 942 et en 1 946 ? Il n'y a pas eu de
- Comment les pays organisateurs ont-ils été choisis de 1 958 à 1 998 ?
- Il y eut deux nouveautés dans l'organisation de la Coupe du monde 2 002 :
→ →
- Trace sur le planisphère ci-dessus : en rouge la traversée de Coste et Bellonte ; en bleu, le trajet suivi par Mermoz.

NOM :
 Prénom :

Date : . / . / .



COUPE du monde 2010



Le foot en mesures

Qu'ils sont bizarres, ces Anglais !!!

Les dimensions du terrain, des buts et du ballon ont été décidées en 1848 par les élèves d'un collège anglais. Les unités de mesures anglaises sont différentes des nôtres ; quand on les convertit dans notre système métrique, ces dimensions sont des nombres décimaux !

► Lis attentivement ce tableau et complètes-en les « trous ».

	Système ANGLAIS	Système MÉTRIQUE
<div style="border: 1px solid black; padding: 5px;"> 1 kg = 1 000 g 1 livre anglaise = 453 g 1 livre = ... onces </div>	Masse du ballon (x)	14 onces < x < 16 onces
<div style="border: 1px solid black; padding: 5px;"> 1 m = cm = mm 1 yard = 915 mm </div>	Longueur du terrain (y)	100 yards < y < 130 yards
	Largeur du terrain (z)	50 yards < z < 100 yards

1. Ecris de 5 en 5 grammes toutes les masses de ballons réglementaires comprises entre les masses limites :

2. Compte en onces, de 0 à 5 livres anglaises (cf. le tableau ci-dessus).

0 livre < 1 livre < 2 livres < 3 livres < 4 livres < 5 livres
 ... once < ... onces < ... onces < ... onces < ... onces < ... onces

3. Si dix ballons pèsent 4 kg 530 g (ou grammes), ces ballons pèsent livres anglaises.

4. Le jeune gagnant d'un concours de jonglerie a gagné sa masse en ballons de 400 grammes. Lui-même pèse 32 kg.

► Combien de ballons a-t-il reçus ?
 (fais tes calculs et explique ci-dessous)

5. ► Note ta masse : kg = grammes

Calcule le nombre maximum de ballons de 453 grammes, de balles de tennis de 55 g et de balles de ping-pong de 3 g qu'il faudrait poser sur le deuxième plateau d'une balance pour l'équilibrer, si toi, tu t'asseyais sur le premier plateau.

NOM :
 Prénom :

Date : . / . / .



COUPE du monde 2 0 1 0



L'EUROPE : un continent très bien représenté

Il y a deux Europe : l'une est géographique et historique et l'autre est sportive.

Après 1 989, des nations européennes ont disparu et de nouvelles nations sont apparues. Ainsi, les deux Allemagne n'en font maintenant plus qu'une. La Tchécoslovaquie a été partagée en deux pays : la République tchèque et la Slovaquie.

Depuis 1 989, une quinzaine de nouveaux pays sont nés en Europe, et... tous ces pays veulent participer à la Coupe du monde.

Carte d'Europe



(le numéro renvoie au code de la nation dans le tableau ci-dessous.)

Recherche

a) **Ecris** les noms des 13 équipes européennes qualifiées pour la Coupe du monde 2 0 1 0 :

.....

b) **Colorie** sur la carte d'Europe ci-contre ces 13 pays.

Liste des 53 nations de l'Europe du football

n°	Nations
1	Albanie
2	<i>Allemagne*</i>
3	Andorre
4	Angleterre
5	<i>Arménie*</i>
6	Autriche
7	<i>Azerbaïdjan*</i>
8	Belgique
9	<i>Biélorussie (ou Bélarus)*</i>
10	<i>Bosnie-Herzégovine*</i>
11	Bulgarie
12	Chypre
13	<i>Croatie*</i>
14	Danemark
15	Ecosse
16	Eire (ou Irlande)
17	Espagne
18	<i>Estonie*</i>

n°	Nations
19	Féroë (Iles) (Danemark)
20	Finlande
21	France
22	<i>Géorgie*</i>
23	Grèce
24	Hongrie
25	Irlande du Nord
26	Islande
27	Israël
28	Italie
29	<i>Kazakhstan*</i>
30	<i>Lettonie*</i>
31	Lichtenstein
32	<i>Lituanie*</i>
33	Luxembourg
43	<i>Macédoine*</i>
35	Malte
36	<i>Moldavie*</i>

n°	Nations
37	<i>Montenegro*</i>
38	Norvège
39	Pays-Bas
40	Pays de Galles
41	Pologne
42	Portugal
43	<i>République tchèque*</i>
44	Roumanie
45	<i>Russie*</i>
46	Saint-Marin
47	<i>Serbie*</i>
48	<i>Slovaquie*</i>
49	<i>Slovénie*</i>
50	Suède
51	Suisse
52	Turquie
53	<i>Ukraine*</i>

* En italique, les pays qui existent depuis 1 989.

NOM :
 Prénom :

Date : . / . / .



COUPE du monde 2010



Petit jeu des nations de l'Europe du foot

À l'aide de la carte

1- Nombre de **nations limitrophes** de :

France (.....) – Grèce (.....) – Pays-Bas (.....) – Portugal (.....) – Suisse (.....) – Slovaquie (.....) – Danemark (.....)

TOTAL de ces 7 nombres ► Ce nombre correspond à (quel pays ?)

2- Cite les deux nations européennes qualifiées qui n'ont pas de littoral maritime :

.....

3- Cite au moins trois nations qualifiées qui n'ont qu'un ou deux pays limitrophes :

.....

4- Cite trois très petites nations de l'Europe du football :

.....

À l'aide du tableau

5- Nombre de nouvelles nations européennes depuis 1989 : ...

6- Parmi ces nouvelles nations, cite les sept qui font partie de l'Union européenne en 2010 ?

.....

7- Cite deux nations européennes qui ont deux noms : et

8- Cite au moins trois pays qui font partie de l'Europe du football mais qui sont en fait... en Asie !

.....

* Un adversaire de la France : le MEXIQUE

Le MEXIQUE jouera contre la France le 17 juin, à Polokwane. Avant cela le Mexique s'était qualifié en terminant deuxième de son groupe (Costa Rica ; El Salvador ; Honduras ; Trinité et Tobago ; USA). Voici les résultats de ses dix matches de qualification :

<i>Matches et résultats</i>			*V N ou D ?
USA	2 – 0	Mexique	D
Mexique	2 – 0	Costa Rica	
Honduras	3 – 1	Mexique	
El Salvador	2 – 1	Mexique	
Mexique	2 – 1	Trinité et T.	
Mexique	2 – 1	USA	
Costa Rica	0 – 3	Mexique	
Mexique	1 – 0	Honduras	
Mexique	4 – 1	El Salvador	
Trinité et T.	2 – 2	Mexique	

a) Chaque victoire rapporte 3 points, chaque match nul vaut 1 point et chaque défaite 0 point. Calcule le nombre de points obtenus par le Mexique dans son groupe.

..... points

- nombre de victoires :

- nombre de nuls :

- nombre de défaites :

TOTAL DE POINTS :

b) Calcule le nombre de buts marqués et le nombre de buts encaissés par le Mexique.

- buts marqués :

- buts encaissés :

NOM :
 Prénom :

Date : . / . / .



COUPE du monde 2010



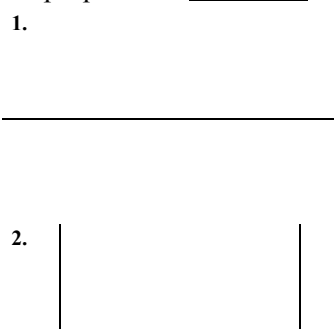
DES BUTS BIEN GARDÉS !

A- Voici les dimensions des buts de football :


1 m = cm
 1 yard = pieds

	Système ANGLAIS	Système MÉTRIQUE
HAUTEUR des buts	8 pieds	2,44 m = 244 cm
LARGEUR des buts	24 pieds = 8 yards	7,32 m = 732 cm

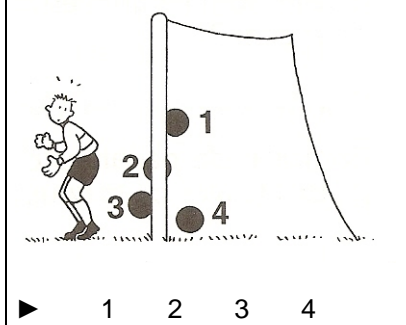
a. Voici les deux buts d'un terrain abandonné. Explique leurs anomalies.



b. Complète le tracé de chaque but (montants ou barre).



c. Un but est validé si le ballon franchit entièrement la ligne de but. Voici quatre situations de but. Laquelle (lesquelles) l'arbitre peut-il valider en but ? (entoure)



B- Les buts sont bien gardés, mais les gardiens n'arrêtent pas tous les tirs. Voici les buts marqués au cours de toutes les Coupes du monde.

ANNEE	nombre de MATCHES	nombre de BUTS
1 930	18	71
1 934	17	72
1 938	18	86
1 950	22	91
1 954	26	146
1 958	35	133
1 962	32	96
1 966	32	95
1 970	32	99

ANNEE	nombre de MATCHES	nombre de BUTS
1 974	38	103
1 978	38	114
1 982	52	154
1 986	52	144
1 990	52	128
1 994	52	156
1 998	64	156
2 002	64	161
2 006	64	147

* Calcule le nombre de buts marqués et le nombre de matches joués pendant les 11 premières Coupes du monde (jusqu'en 1 978), puis pendant les 7 dernières.

- de 1 930 à 1 978 : buts pour matches – Moyenne de buts par match :

- de 1 982 à 2 006 : buts pour matches – Moyenne de buts par match :

► Que constates-tu ?

C- **Le sais-tu ?** Après un match Brésil – Angleterre, "le roi" Pelé déclara : « J'ai marqué un but, mais le gardien anglais a arrêté le ballon ! » En disant cela, Pelé...

se moquait du gardien. admirait le gardien. reconnaissait la grande classe du gardien. injurait le gardien.

NOM :
 Prénom :
 Date : . / . / .



COUPE du monde 2010



LE BRÉSIL, CHAMPION DES CHAMPIONS



- * Superficie : 8 512 000 km² (France : 550 000 km²)
 - * Population : 190 000 000 habitants (France : 63 000 000 hab.)
 - * Capitale : BRASÍLIA
 - * Langue officielle : le portugais
 - * Autres langues : 100 langues parlées par les Indiens
 - * Monnaie : le cruzeiro
 - * Paris à Rio de Janeiro : 9 200 km (14 heures d'avion)
- Le climat est équatorial au nord et tropical au sud : chaud et humide toute l'année.
- L'Amazone est le plus long fleuve du monde (7 000 km).
- La forêt amazonienne risque de disparaître à cause d'une exploitation sauvage qui menace l'équilibre écologique de la planète entière.
- ▶ Trois Brésiliens sur quatre (ou 75 %) vivent dans les grandes villes comme : Rio de Janeiro, São Paulo, Belém, Manaus, Salvador, Recife, Fortaleza...
 - ▶ 8 millions d'enfants brésiliens vivent abandonnés dans les rues et les favelas (bidonvilles).
- > Le Brésil produit beaucoup de : bois, sucre (canne), café, fer, caoutchouc, bovins, automobiles, navires...

Pour le football, le Brésil est le n° 1

- * Le plus grand stade (Maracana) : 120 000 places !
- * Le seul pays à avoir participé à toutes les phases finales.
- * Le Brésil a joué 92 matches de phase finale : 64 victoires, 14 défaites et 14 nuls.
- * 1 million de Brésiliens sont licenciés en football, mais 20 000 000 jouent au football.
- * Pelé est le plus grand joueur de football. Il a gagné 3 Coupes du monde. En 20 ans, il a marqué 1 281 buts en 1 321 matches !

année	partici du Brésil ?	vainqueur	place du Brésil
1 930	oui	Uruguay	
1 934	oui	Italie	
1 938	oui	Italie	3°
1 950	oui	Uruguay	2°
1 954	oui	Allemagne	
1 958	oui	Brésil	
1 962	oui	Brésil	
1 966	oui	Angleterre	
1 970	oui	Brésil	

année	partici du Brésil ?	vainqueur	Place du Brésil
1 974	oui	Allemagne	4°
1 978	oui	Argentine	3°
1 982	oui	Italie	
1 986	oui	Argentine	
1 990	oui	Allemagne	
1 994	oui	Brésil	
1 998	oui	France	2°
2 002	oui	Brésil	
2 006	oui	Italie	

1. Le Brésil est environ ... fois plus étendu que la France, et environ ... fois plus peuplé que la France.

la densité... du Brésil (22 hab./km²)

et de la France (114 hab./km²)
2. Repasse en bleu le cours du fleuve Amazone, de sa source à son embouchure, dans l'océan Atlantique.
3. Recherche. Ecris les noms des 10 pays limitrophes du Brésil :
 Deux pays d'Amérique du Sud ne touchent pas le Brésil : et
4. Recherche. Quelle est l'origine du nom Brésil ?
5. « Le Brésil est un pays à la fois riche et misérable. » vrai ou faux ?

6. Complète le 2° dessin en dessinant le nombre d'habitants vivant à la campagne au Brésil (Attention ! 3 habitants sur 4 vivent en ville)



NOM :
Prénom :

Date : . / . / .



COUPE du monde 2 0 1 0



Elles y étaient en 2 0 0 2, en 2 0 0 6 et/ou en 2 0 1 0

Voici deux cartes des nations
qui se sont qualifiées pour au
moins une des trois dernières
Coupes du monde.

* Ci-contre : **l'Europe**



* Ci-dessous : **le planisphère**



NOM :
 Prénom :

Date : . / . / .



COUPE du monde 2 0 1 0



Liste des nations qualifiées pour les trois dernières Coupes du monde

Coupe du monde 2 0 0 2	
Afrique du S. (77)	France (F)
Allemagne (2)	Italie (27)
Angleterre (3)	Japon (85)
Arabie Saoud.(70)	Mexique (73)
Argentine (60)	Nigéria (74)
Belgique (7)	Paraguay (78)
Brésil (61)	Pologne (26)
Cameroun (62)	Portugal (24)
Chine (84)	Russie (42)
Corée du Sud (64)	Sénégal (81)
Costa Rica (6)	Slovénie (45)
Croatie (12)	Suède (46)
Danemark (13)	Tunisie (75)
Irlande (15)	Turquie (23)
Equateur (63)	Uruguay (68)
Espagne (16)	U.S.A. (69)

Africaine : ... pays	
Américaine : ... pays	
Asiatique : ... pays	
Européenne : ... pays	
Océanienne : ... pays	

Coupe du monde 2 0 0 6	
Allemagne (2)	Italie (27)
Angleterre (3)	Japon (85)
Angola (4)	Mexique (73)
Arabie Saou. (70)	Paraguay (78)
Argentine (60)	Pays-Bas (36)
Australie (5)	Pologne (26)
Brésil (61)	Portugal (24)
Corée du Sud (64)	R. Tchèque (14)
Costa Rica (6)	Serbie et Mon. (17)
Côte d'Ivoire (7)	Suède (46)
Croatie (12)	Suisse (19)
Equateur (63)	Togo (20)
Espagne (16)	Trinité et Tob. (21)
France (F)	Tunisie (75)
Ghana (9)	Ukraine (22)
Iran (76)	U.S.A. (69)

Africaine : ... pays	
Américaine : ... pays	
Asiatique : ... pays	
Européenne : ... pays	
Océanienne : ... pays	

Coupe du monde 2 0 1 0	
Afrique du S. (77)	Grèce (32)
Algérie (25)	Honduras (33)
Allemagne (2)	Italie (27)
Angleterre (3)	Japon (85)
Argentine (60)	Mexique (73)
Australie (5)	Nigéria (74)
Brésil (61)	N ^{elle} -Zélande (34)
Cameroun (62)	Paraguay (78)
Chili (28)	Pays-Bas (36)
Corée du Nord (29)	Portugal (24)
Corée du Sud (64)	Serbie (17)
Côte d'Ivoire (7)	Slovaquie (35)
Danemark (13)	Slovénie (45)
Espagne (16)	Suisse (19)
France (F)	Uruguay (68)
Ghana (9)	U.S.A. (69)

Africaine : ... pays	
Américaine : ... pays	
Asiatique : ... pays	
Européenne : ... pays	
Océanienne : ... pays	

Lecture des cartes et du tableau

Participation...	AFRIQUE	AMÉRIQUE	ASIE	EUROPE	Océanie	nombre total de pays
... aux trois dernières Coupes du monde → à colorier en rouge sur les cartes du recto						...
... à deux des trois dernières Coupes du monde → à colorier en orange sur les cartes du recto						...
... à une des trois dernières Coupes du monde → à colorier en jaune sur les cartes du recto						...
... à aucune des trois dernières Coupes du monde (1 exemple par continent)						

NOM :
 Prénom :

Date : . / . / .




COUPE du monde 2010



Balle au centre

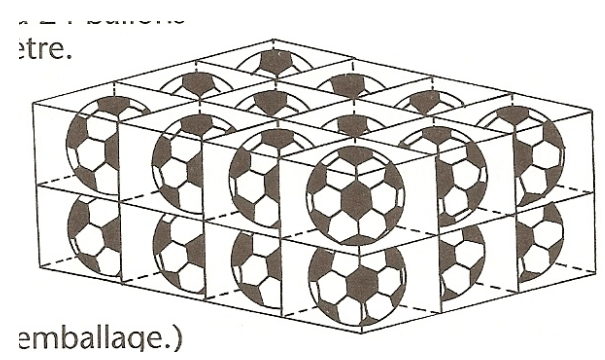
A- Le rond central est un cercle tracé au centre du terrain de football. Voici les dimensions de ce cercle :

- Longueur du **rayon** : 10 yards = 9,15 m = ... cm
 Longueur du **diamètre** : 20 yards = m = ... cm
- [OA] est un ; [OA] mesure m.
 [OB] est un ; [OB] mesure m
 [AB] est un ; [AB] mesure m



- Le rond central mesure environ 57 mètres de circonférence (le tour).
 Quelle distance parcourent-ils ?
 - . Thierry HENRY fait 8 tours exactement sur le cercle :
 - . Steve MANDANDA fait 13 tours et demi sur le cercle :
 - . Franck RIBERY fait un tour, à 1 mètre à l'intérieur du cercle : 51 m - 57 m - 64 m
 - . Yohann GOURCUFF fait un tour, à 1 mètre, à l'extérieur du cercle : 51 m - 57 m - 64 m

B- Dans ce carton d'expédition, ... ballons sont disposés comme sur le dessin ci-contre. Chaque ballon mesure 22 cm de diamètre.



- Calcule les trois dimensions du carton rempli de ballons.
- longueur du carton : ... cm (calcul :))
 - largeur du carton : ... cm (calcul :))
 - hauteur du carton : ... cm (calcul :))

Aujourd'hui, c'est Hugo LLORIS qui est responsable du gonflage des ballons. Un ballon réglementaire doit mesurer entre 21,7 cm et 22,61 cm de diamètre. Il se gratte la tête...

Voici les sept ballons dont il dispose et leur diamètre en centimètre :
 A : 22,5 cm B : 23 cm C : 22,6 cm D : 21,6 cm E : 21,85 cm F : 22 cm G : 22,9 cm

Aide-le à classer les ballons en trois catégories :

Ballons trop petits (sous-gonflés)	Ballons bien gonflés	Ballons trop gros (trop gonflés)

NOM :
Prénom :

Date : . / . / .



COUPE du monde 2010



Trace un cercle de centre O et de 9,1 cm de rayon (ce cercle représentera le rond central du terrain de football : 1 cm sur ta représente 1 sur le terrain).

1- Marque les points ci-dessous qui symbolisent les joueurs, en utilisant la même échelle (1 cm sur ta feuille = 1 mètre sur le terrain).

Patrice **EVRA** [E] est à 8 m du centre O ; Bakary **SAGNA** [S] en est à 10 m ; André-Pierre **GIGNAC** [G] à 12 m ; Alou **DIARRA** [D] à 12,9 m ; Jérémy **TOULALAN** [T] à 9 m ; Djibril **CISSE** [C] à 7 m ; Florent **MALOUDA** [M] à 0,5 m ; Anthony **REVEILLERE** [R] à 9,4 m ; Nicolas **ANELKA** [A] à 9,1 m ; Johann **GOURCUFF** [G] à 14,3 m.

2- Souligne plus haut : - en bleu, les noms des joueurs qui sont à l'intérieur du rond central du terrain ;
- en orange, les noms de ceux qui sont en-dehors du rond central.

3- Encadre plus haut : - en bleu le nom de celui qui est le plus près du centre O du rond central ;
- en orange, le nom de celui qui est le plus éloigné du centre O.

4- Entoure en noir le nom de celui qui n'a pas encore été souligné.

NOM :
 Prénom :

Date : . / . / .



COUPE du monde 2010



Du foot à toute heure !

Les matches de la Coupe du monde seront télévisés en direct dans tous les pays. Mais, même s'ils regardent le même match au même moment, il ne sera pas la même heure chez le Mexicain Pedro, à Mexico, chez le Parisien Alexandre, et chez le Guadeloupéen Mathieu. Pourquoi ?

I- La Terre a deux mouvements

1. Elle tourne autour d'une étoile appelée le Soleil ; ce mouvement appelé **révolution** dure 365 jours (1 an) environ ; il est responsable des saisons.

2. Elle tourne sur elle-même autour d'un axe qui passe par les pôles Nord et Sud ; ce mouvement appelé **rotation** dure 24 heures (1 jour), il crée l'alternance du jour et de la nuit.

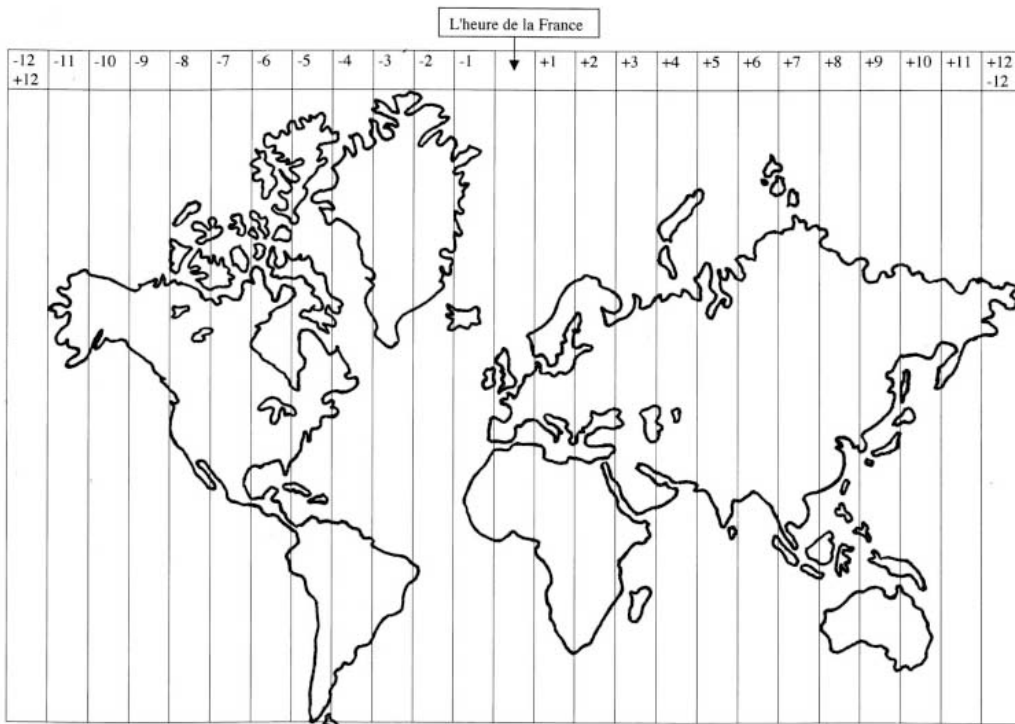
II- Il est midi (milieu du jour) quand le soleil passe au méridien d'un lieu.

Cela signifie que, à midi :

- le soleil est au point culminant de sa trajectoire (il est au plus haut dans le ciel) ;
- les ombres sont les plus

III- Il a fallu créer une heure légale.

Le globe terrestre a été divisé en 24 fuseaux horaires. Chaque pays se trouve à l'intérieur d'un (ou plusieurs) fuseau(x) horaire(s), selon son (voir le planisphère ci-dessous).



* Les heures en Temps Universel Compensé (T.U.C.) sont comptées à partir du **Méridien de Grennwich** (il passe par la France).

- * Chaque fuseau a son heure :
- vers l'Est : +1, +2, +3... +12 h ;
- vers l'Ouest : -1, -2, -3... -12 h.

Ex. : *Quand il est 12 heures à Paris, il est 12 - 5 = 7 heures en Guadeloupe (l'hiver)*

► Nombre de fuseaux horaires qui couvrent :

- l'Europe (en vert) : ...
- l'Afrique du Sud (en rouge) : ...
- le Cameroun (en violet) : ...
- les Etats-Unis (en gris) : ...
- le Mexique (en orange) : ...
- le Brésil (en rose) : ...
- l'Australie (en jaune) : ...
- la France (en bleu) : ...
- l'Algérie (en marron) : ...

NOM :
 Prénom :

Date : . / . / .



COUPE du monde 2 010



► Consulter le site : <http://crpal.free.fr/sciences/astronomie/fushorair.pdf>

Pourquoi les fuseaux horaires qui traversent les continents ne sont-ils pas droits ?

.....

Voici quelques exemples des écarts entre les heures légales de quelques nations participant à la Coupe du monde en juin 2 010 et l'heure en T.U.C.

NATION (capitale)	écart avec le T.U.C, en heures*	Exemple : Quand il est 12 heures (TUC), il est . 14 heures à Paris (12 + 2) ; . 9 h à Brasilia (12 - 3)
AFRIQUE DU SUD (Pretoria)	+ 2	Donc le décalage horaire (ou différence d'heure) entre la France (Paris) et le Brésil (Brasilia) est de 5 heures (14 h - 9 h = 5 h)
MEXIQUE (Mexico)	- 5	
COTE D'IVOIRE (Yamoussoukro)	0	► Quand il est 12 h TUC, quelle heure est-il à... . Yamoussoukro ? Wellington ?
CAMEROUN (Yaoundé)	+ 1	
N ^{elle} -ZELANDE (Wellington)	+ 12	. Tokyo ?
JAPON (Tokyo)	+ 9	. Washington ?
BRESIL (Brasilia)	- 3	. Pointe-à-Pitre ? :
ETATS-UNIS (Washington)	- 4	► Quel est le décalage horaire entre... . la France et l'Afrique du Sud ?
ETATS-UNIS (Los Angeles)	- 7	
FRANCE (Paris)	+ 2	. la Guadeloupe et le Mexique ?
GRECE (Athènes)	+ 3	. les Etats-Unis et la N ^{elle} -Zélande ?
GADELOUPE (Pointe-à-Pitre)	- 4	. la Grèce et le Japon ?

* Les heures données sont les heures d'été.

► Voici le calendrier de 2 rencontres de la Coupe du monde 2 010

FRANCE – MEXIQUE, jeudi 17 juin 2 010, à 20 h 30 (à Polokwane)

Au début de ce match, il sera : ... h ... en France (calcul :)

et ... h ... au Mexique (calcul :)

JAPON – CAMEROUN, lundi 14 juin 2 010, à 16 h 00 (à Bloemfontein)

Au début de ce match, il sera : ... h ... au Japon (calcul :)

et ... h ... au Cameroun (calcul :)

► Imaginons que la finale oppose... la N^{elle}-Zélande à la Côte d'Ivoire !!!

NELLE-ZELANDE – COTE D'IVOIRE, dimanche 11 juillet, à 20 h 30 (à Johannesburg)

Document offert par Alain Vieau. Diffusion par le réseau : www.takatrouver.net / www.takabosser.net (16)

NOM :
Prénom :

Date : . / . / .




COUPE du monde 2010




Au début de ce match, il sera : ... h ... en Nouvelle-Zélande (calcul :)
et ... h ... en Côte d'Ivoire (calcul :)
... h ... en Guadeloupe

Jeu de ballons

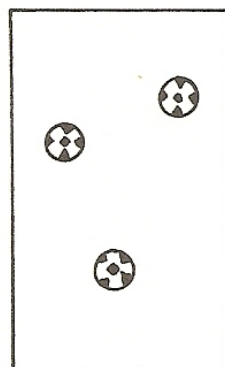
Le moniteur a posé des ballons sur des petits terrains rectangulaires, comme ci-dessous.



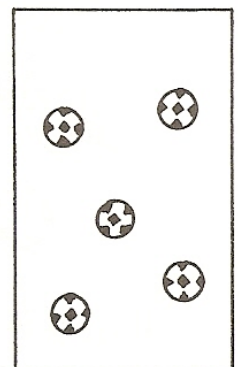
A (1)



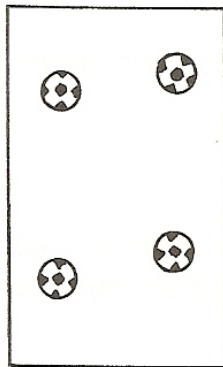
B (2)




C (2)




D (2)




E (3)



F (3)



G (4)



H (1)

► **But du jeu : le jeu consiste à tracer des lignes droites de façon à partager chaque terrain en régions qui contiendront chacune un ballon et un seul (aucune région ne doit rester vide).**

Quelques règles :

- le nombre de droites que tu peux tracer est noté entre parenthèses après la lettre qui désigne le terrain (ex. : terrain B, 2 droites à tracer).
- toutes les droites doivent être tracées à l'intérieur du terrain rectangulaire, d'un bord de ce terrain à un autre bord.
- les droites peuvent être sécantes ou non, à l'intérieur ou sur la limite du terrain.
- aucune droite ne doit couper un ballon.

Attention, il peut y avoir des cas d'impossibilité !...

NOM :

Prénom :

Date : . / . / .



COUPE

du monde 2010



BONNE CHANCE Les STARS du football mondial

Ferenc PUSKAS

1 927, Budapest (Hongrie) – 2 006, Budapest

Le Hongrois Puskas fut un des joueurs les plus talentueux des années 50. Gaucher élégant, il était membre du Onze d'Or (l'équipe de Hongrie) qui resta invaincu de 1950 à 1954. Malheureusement, en 1954, Puskas – et son équipe pourtant favorite – perdit la finale de la Coupe du monde contre l'Allemagne (2-3).

En 1960, alors qu'il jouait au Réal de Madrid, il marqua 4 des 7 buts de son équipe en finale de la Coupe d'Europe des clubs champions.

Atteint par la maladie d'Alzheimer, il fut contraint de vendre une partie des trophées qu'il avait gagnés pour payer ses soins.

Diego MARADONA

1 960, Buenos Aires (Argentine)

En Argentine, Diego Maradona est considéré comme un dieu du football.

Très tôt célèbre dans son pays, surnommé "le pied en or", il rejoignit l'Espagne où il remporta plusieurs titres avec le club de Barcelone, puis l'Italie où il joua de 1984 à 1991. Mais sa véritable consécration eut lieu en 1986, au Mexique, lorsqu'il remporta la Coupe du monde avec l'équipe d'Argentine. De petite taille (1,66 m), cet attaquant gaucher était capable de réaliser de véritables exploits : en 1986, contre l'Angleterre, il dribbla cinq joueurs avant de marquer un but. Quant à l'autre but de ce match, il le marqua... de la main !

Malheureusement, dans les années 1990, il fut inculpé pour trafic et consommation de drogue.

Aujourd'hui, Maradona est le sélectionneur de l'équipe d'Argentine.

Michel PLATINI

1 955, Joazeiro (France)

Michel Platini, le plus célèbre des numéros 10 français, est aussi l'un des plus grands joueurs des trente dernières années. Formé au club de Nancy, ce fils d'immigrés italiens fut ensuite champion de France avec l'AS Saint-Etienne. Mais c'est son départ en Italie qui le rendit mondialement célèbre. Avec le club de la Juventus de Turin, il remporta en effet le championnat d'Italie et la Coupe d'Europe des clubs champions. Il fut élu meilleur joueur européen (« Ballon d'or ») en 1983, 1984 et 1985.

Avec l'équipe de France, il gagna le Championnat d'Europe des nations en 1984, mais il échoua deux fois en demi-finale de la Coupe du monde (1982 et 1986).

Cet amoureux du beau jeu est aujourd'hui le président de l'UEFA, l'organisme qui gère le football en Europe.

PELÉ

1 940, Tres Corações (Brésil)

Edson Arantes do Nascimento, dit Pelé, devint footballeur professionnel à l'âge de 16 ans dans le club du Santos FC, où il brillera jusqu'en 1974.

C'est en Suède, lors de la Coupe du monde de 1958, qu'il se fit remarquer avec l'équipe du Brésil : il y remporta la première de ses trois coupes du monde. Ses dribbles géniaux, ses feintes, ses passes inattendues et son sens du but ont fait de lui le footballeur le plus célèbre. Il inscrit 1 285 buts en 1 322 matches !

En 1980, il reçut le titre d'"Athlète du siècle" et devint en 1994 ministre des sports du Brésil. Nommé ambassadeur de la Coupe du monde 2014, Pelé est une véritable légende vivante.

Johan CRUYFF

1 947, Amsterdam (Pays-Bas)

Surnommé "le Hollandais volant", cet attaquant rapide, spectaculaire et inventif a éclaboussé les années 70 de son talent.

Avec son équipe de l'Ajax Amsterdam, il remporta trois fois la Coupe d'Europe des clubs champions (1971, 1972 et 1973). Considéré alors comme le meilleur joueur d'Europe (3 fois « Ballon d'Or »), il fut vendu au club du FC Barcelone avec qui il gagna, dès 1974, le titre de champion d'Espagne. Surnommé "el salvador" (le sauveur) par les barcelonais, on lui autorisait tout, y compris de fumer à la mi-temps des matches !

Lors de la Coupe du monde de 1974, son équipe (les Pays-Bas), qui était la favorite, perdit la finale 2 à 1 contre les Allemands. Cruyff refusa ensuite de se rendre en Argentine pour disputer la Coupe du monde de 1978, pour « protester contre la dictature des militaires argentins au pouvoir », déclara-t-il.

Zinedine ZIDANE

1 972, Marseille (France)

Zizou est encore une star dans le monde entier. Issu d'une famille originaire d'Algérie, Zidane a joué dans quatre clubs : Cannes, Bordeaux, puis Juventus de Turin (Italie) et Réal Madrid (Espagne).

Maître incontesté dans l'organisation du jeu, magicien du ballon (on dit que ses pieds sont comme... des mains), « Ballon d'or » en 1998, Zidane a longtemps été le joueur le plus cher du monde : en 2001, le club du Réal Madrid (Espagne) l'acheta pour 75 millions d'euros !

En 2006, en Allemagne, Zidane, capitaine de l'équipe de France, jouait son dernier match : la finale de la Coupe du monde, contre l'Italie. Au cours de la prolongation, il perdit son sang-froid et agressa un adversaire, ce qui lui valut d'être immédiatement expulsé par l'arbitre du match.

NOM :

Prénom :

Date : . / . / .



COUPE du monde 2010



Quatre STARS du ballon rond

PELÉ 1940, Tres Caraços (Brésil)

Edson Arantes do Nascimento, dit Pelé, devint footballeur professionnel à l'âge de 16 ans dans le club du Santos FC, où il brillera jusqu'en 1974.

C'est lors de la Coupe du monde en Suède qu'il se fit remarquer avec l'équipe du Brésil : à 17 ans, il y remporta la première de ses trois coupes du monde (1958, 1962 et 1970). Ses dribbles géniaux, ses feintes, ses passes inattendues et son sens du but ont fait de lui le footballeur le plus célèbre. Il inscrivit 1285 buts en 1322 matches !

En 1980, le "roi" Pelé reçut le titre d'"Athlète du siècle" et devint en 1994 ministre des sports du Brésil. Nommé ambassadeur de la Coupe du monde 2014 (au Brésil), Pelé est une véritable légende vivante.

Diego MARADONA

1960, Buenos Aires (Argentine)

En Argentine où on le surnomme "le pied en or", Diego Maradona est considéré comme un dieu du football.

Après une Coupe du monde 82 moyenne, il remporte plusieurs titres avec le club du FC Barcelone (Espagne), puis il joue en Italie de 1984 à 1991. Mais sa grande consécration a lieu en 1986, au Mexique, lorsqu'il remporte la Coupe du monde avec l'équipe d'Argentine. De petite taille (1,66 m), cet attaquant gaucher est capable de réaliser de vrais exploits : en 1986, contre l'Angleterre, il dribble cinq joueurs avant de marquer un but. Quant à l'autre but de ce match, il le marque... de la main !

Finaliste de la Coupe du monde 1990, il fut exclu de celle de 1994 pour dopage ! On l'inculpa ensuite pour trafic et consommation de drogue.

Maradona est le sélectionneur de l'équipe d'Argentine 2010.



PELÉ (maillot jaune) vient de marquer le 1^{er} but du Brésil lors de la Coupe du monde de 1970.



Johan CRUYFF (maillot orange) était l'exemple même du joueur élégant et spectaculaire.



Diego MARADONA (maillot bleu et blanc) était capable de tous les exploits et... de tous les excès.



Michel PLATINI (maillot bleu) a joué 72 matches et a marqué 41 buts avec l'équipe de France.

Johan CRUYFF

1947, Amsterdam (Pays-Bas)

Surnommé "le Hollandais volant", cet attaquant rapide, spectaculaire et inventif a éclaboussé les années 70 de son talent.

Avec son équipe de l'Ajax Amsterdam, Cruyff remporta trois fois la Coupe d'Europe des clubs champions (1971, 1972 et 1973). Considéré alors comme le meilleur joueur d'Europe (3 fois « Ballon d'Or »), il fut vendu au club du FC Barcelone avec qui il gagna, dès 1974, le titre de champion d'Espagne. Surnommé "el Salvador" (le Sauveur) par les Barcelonais, on lui autorisait tout, y compris de fumer à la mi-temps des matches !

Lors de la Coupe du monde de 1974, son équipe (les Pays-Bas), qui était la favorite, perdit la finale 2 à 1 contre les Allemands. Cruyff refusa ensuite de se rendre en Argentine pour disputer la Coupe du monde de 1978, pour « protester contre la dictature des militaires argentins au pouvoir », déclara-t-il.

Michel PLATINI 1955, Joazeux (France)

Michel Platini – ou Platoche – est le plus célèbre des numéros 10 français. Il est aussi l'un des plus grands joueurs des trente dernières années. Formé au club de l'A.S. Nancy, ce fils d'immigrés italiens fut champion de France avec l'A.S. Saint-Etienne. Mais c'est son départ en Italie qui l'a rendu mondialement célèbre. Avec le club de la Juventus de Turin, où on l'appelait le "roi Michel", il remporta en effet le championnat d'Italie et la Coupe d'Europe des clubs champions. Ce meneur de jeu et buteur fut élu meilleur joueur européen (« Ballon d'or ») en 1983, 1984 et 1985.

Avec l'équipe de France dont il était le capitaine, il gagna le Championnat d'Europe des nations en 1984, mais il échoua deux fois en demi-finale de la Coupe du monde (1982 et 1986).

Cet amoureux du beau jeu est le président actuel de l'UEFA, l'organisme qui gère le football en Europe.

NOM :
 Prénom :

Date : . / . / .



COUPE du monde 2 0 1 0



Quatre STARS du ballon rond

A. Cite...

1. Les deux joueurs qui ont joué dans le même club :

Ce club est :

/ 3 pts

2. Les deux « Ballon d'or » :

/ 2 pts

3. Les attaquants :
pts

/ 2

4. Les deux joueurs ayant joué en Italie :
pts

/ 2

5. Les deux joueurs non européens :

/ 2 pts

6. Le joueur ayant 55 ans en 2 0 1 0 :

/ 1 pt

B. Range ces quatre joueurs – toujours vivants – du plus âgé au plus jeune.

/ 2

pts

C. Les photos nous montrent les quatre joueurs jouant sous le maillot de leur équipe nationale.

Lequel des quatre n'était pas capitaine de son équipe ce jour-là ? Comment le sais-tu ?

/ 2

pts

D. Voici une frise des Coupes du monde (seconde moitié du XX^e siècle). Colorie pour chaque joueur la(les) case(s) des éditions auxquelles il a participé, selon le code ci-dessous.

/ 5

pts

CRUYFF oran.

MARADONA rouge

PELÉ jaune

PLATINI bleu

1 954
(Sui.)

1 958
(Suè.)

1 962
(Chi.)

1 966
(Ang.)

1 970
(Mex.)

1 974
(All)

1 978
(Arg.)

1 982
(Esp.)

1 986
(Mex.)

1 990
(Ita.)

1 994
(USA)

E. Redonne à chaque joueur une **caractéristique** et son **surnom**.

/ 2

pts

..... Le footballeur du siècle

..... L'athlète du siècle

..... El pibe de oro (le pied en or)

..... Le Hollandais volant

..... Platoche

Il marqua presque un but par match.

CRUYFF

Il marqua 2 buts extraordinaires contre les Anglais.

MARADONA

On tolérait qu'il fume dans le vestiaire.

PELE

NOM :
Prénom :

Date : . / . / .



COUPE du monde 2010



Il dirige actuellement
le football européen.

PLATINI

. *Le roi*

. *Le fou*

. *Le sauveur*

NOM :

Prénom :

Date : . / . / .



COUPE

du monde 2010



L'AFRIQUE DU SUD

Avant l'arrivée des Européens

Les premiers occupants connus des territoires de l'Afrique australe (sud) étaient des **chasseurs-cueilleurs** appelés Khoïsans (- 40 000 ans). Au X^e siècle, des tribus **bantous** (les xhosas) venues des rives du Niger, s'installèrent au Transkei.

En 1497, le navigateur portugais **Vasco de Gama** doubla le cap de Bonne-Espérance et fit voile vers les Indes.

La colonisation de l'Afrique australe

C'est au XVII^e siècle que des colons hollandais s'installèrent au Cap où ils firent venir des esclaves de Madagascar pour leur main-d'œuvre.

Les premiers affrontements entre les Noirs bantous et les fermiers blancs eurent lieu en 1779 et durèrent plus d'un siècle. Après bien des guerres et des morts, les Britanniques dirigèrent l'Afrique du Sud, jusqu'à la véritable indépendance en 1961.



"Bâtiments publics réservés aux Blancs" (panneau en anglais et en afrikaans)

L'apartheid

L'Afrique du Sud fut alors gouvernée par les Afrikaners, les Sud-Africains blancs d'origine européenne parlant la langue afrikaans. Ces Afrikaners mirent en place une politique qui visait à séparer la population selon les races. Quatre groupes étaient définis : les Blancs, les Indiens, les Métis et les Bantous (ou Noirs). Cette politique était appelée : apartheid (en afrikaans : *séparation*). A partir des années 1960, les dirigeants du parti politique ANC et d'autres partis politiques noirs furent pourchassés. L'un d'eux, Nelson MANDELA, restera 27 ans en prison. Les lois de l'apartheid furent enfin abolies en 1991.

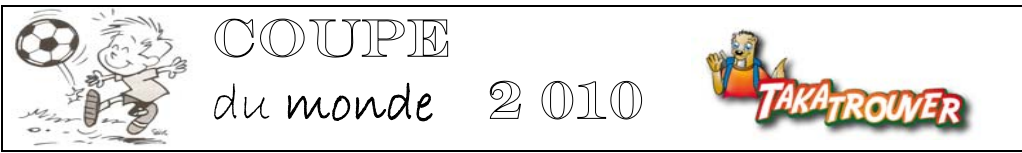
L'Afrique du Sud multiraciale

En 1994, après les premières élections multiraciales, Nelson Mandela est devenu président de l'Afrique du Sud.

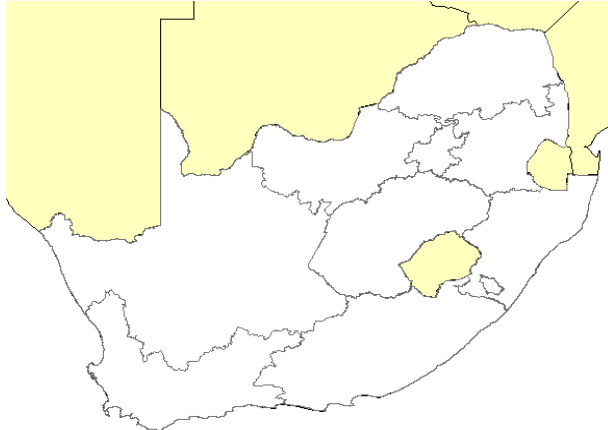
Aujourd'hui, l'Afrique du Sud est composée de 79% de Noirs, 9,5% de Blancs, 8,9% de Métis et 2,6% d'Indiens (*recensement 2007*). Les dirigeants sud-africains sont confrontés à de multiples défis à relever : la pauvreté et le chômage sont importants, surtout dans la communauté noire ; la criminalité est en augmentation constante ; le SIDA fait des ravages chez les 15-50 ans (19% de séropositifs) et abaisse l'espérance de vie des Sud-Africains à 55 ans.

L'organisation de la Coupe du monde de football permettra-t-elle à l'Afrique du Sud de surmonter ses difficultés et de repartir de l'avant ? L'avenir le dira.

NOM :
 Prénom :
 Date : . / . / .



► **UN PEU DE RECHERCHE** (dictionnaire, encyclopédie, DVDrom, internet ► général : [http://fr.vikidia.org/wiki/Afrique du Sud](http://fr.vikidia.org/wiki/Afrique_du_Sud) ; photos : <http://www.chateaubrou.com/afriquedusud/page1.htm> ; Coupe du monde 2010 : <http://fr.fifa.com/worldcup/matches/index.html>)



Place sur la carte les numéros des villes où se joueront les 64 matches de la Coupe du monde de football 2010 :

- 1. Bloemfontein 2. Durban 3. Johannesburg
- 4. La Cap 5. Nelspruit 6. Polokwane
- 7. Port Elizabeth 8. Pretoria 9. Rustenburg

- Ecris le nom des **pays** limitrophes de l'Afrique du Sud.
- Ecris le nom des deux **océans** bordant l'Afrique du Sud.

► Capitale sud-africaine :

► Plus grande ville sud-africaine :

► Président de l'Afrique du Sud (2010) :

► Monnaie sud-africaine :

► Colorie les différents reliefs de l'Afrique du Sud d'après la légende ci-dessous :

- altitude inférieure à 500 mètres.
- altitude comprise entre 500 et 1 500 mètres.
- altitude supérieure à 1 500 mètres.

► Point culminant : le mont, m

Le drapeau sud-africain

- 5 **langues** parlées en Afrique du Sud :
.....
.....
- **Superficie** : km²
(soit : fois la France)
- **Population** : hab.
(la France :)
- **Densité** : hab./km²
(la France :)

Quelques ressources économiques...

agricoles	industrielles	minières
.....
.....
.....

Les footballeurs de l'équipe nationale d'Afrique du Sud sont appelés les

Leurs supporters les encouragent avec un instrument qui, à l'origine, aurait été fabriqué avec une corne de kudu : le

NOM :

Prénom :

Date : . / . / .



COUPE du monde 2010



Le football et sa Coupe du monde

Document n°1

Quatre dates qui ont changé le football (source : FIFA.com – 3 mars 2004)

1 863, création de la Football Association anglaise, à Londres. Avant cette date, il existait des règles, mais trop nombreuses : chaque collège avait les siennes ! Alors, le 26 octobre 1863, des étudiants de Cambridge invitèrent douze autres collègues à unifier leurs règles. 14 Lois du Jeu furent écrites pour donner un cadre à la discipline sur le terrain de jeu.

1 872, premier match international. C'est sur un terrain de cricket que les Ecossais en bleu et blanc accueillirent l'équipe d'Angleterre tout de blanc vêtue. Aucun but ne fut marqué ce jour-là, mais les 4 000 spectateurs présents incitèrent les organisateurs à renouveler ces rencontres. Il faut cependant préciser qu'à cette époque le jeu ressemblait plus au rugby moderne qu'au football !

1 891, arbitres et penaltys. Jusqu'à cette date, les nombreuses disputes étaient réglées par les deux capitaines et les penaltys n'existaient pas car on estimait qu'un Anglais éduqué était incapable de commettre la moindre faute délibérée ! L'invention du penalty fut une des spectaculaires modifications des Lois du Jeu en 1891. Mais le penalty devait être accordé par quelqu'un. C'est ainsi qu'un arbitre fut autorisé à prendre place sur le terrain ; il était le seul à pouvoir expulser un joueur ou à accorder un penalty ou un coup franc.

1 902, le terrain trouve ses lignes. Avec les nouvelles règles et les terrains réservés au football, les lignes devinrent indispensables. Les lignes de but et de touche ont permis de limiter l'aire de jeu. La division du match en deux mi-temps nécessita une ligne médiane (centrale). Pour le coup d'envoi, le rond central maintenait les joueurs à 10 yards (9,15 m) du ballon posé sur le point central. On décida enfin de n'accorder un pénalty que pour des fautes commises dans un rectangle (appelé : surface de réparation) mesurant 18 mètres de large et 44 mètres de long. Un petit rectangle remplaça le demi-cercle jusqu'alors tracé devant le but.

Depuis 1930 en Uruguay, la Coupe du monde a eu lieu 18 fois. En juin 2010, ce sera la XIX^e édition, en Afrique du Sud. Les tableaux suivants donnent des indications précises pour les 8 éditions de 1970 à 1998.

Document n°2

PALMARÈS						
Édition	Année	Pays organisateur	Continent	VAINQUEUR	Finaliste	Score de la finale
IX ^e	1970	Mexique	Amérique	Brésil	Italie	4 – 1
X ^e	1974	R.F. Allemagne	Europe	R.F. Allemagne	Pays-Bas	2 – 1
XI ^e	1978	Argentine	Amérique	Argentine	Pays-Bas	3 – 1 (a.p.*)
XII ^e	1982	Espagne	Europe	Italie	R.F. Allemagne	3 – 1
XIII ^e	1986	Mexique	Amérique	Argentine	R.F. Allemagne	3 – 2
XIV ^e	1990	Italie	Europe	Allemagne	Argentine	1 – 0
XV ^e	1994	Etats-Unis (USA)	Amérique	Brésil	Italie	0 – 0 (3 – 2 t.a.b.**)
XVI ^e	1998	France	Europe	France	Brésil	3 – 0

* a.p. : après prolongations **t.a.b. : tirs au but

Document n°3

Édition	Nombre de pays	N ^{bre} de matches	N ^{bre} de buts marqués	Moyenne de buts marqués par match	Meilleur buteur		Moyenne de spectateurs par match
					Nom, nationalité	N ^{bre} de buts marqués	
IX ^e	16	32	95	2,97	G. Muller, Allemagne	10	47 000
X ^e	16	38	97	2,55	G. Lato, Pologne	7	43 000
XI ^e	16	38	102	2,68	M. Kempes, Argentine	6	37 000
XII ^e	24	52	146	2,81	P. Rossi, Italie	6	37 000
XIII ^e	24	52	132	2,54	G. Lineker, Angleterre	6	38 000
XIV ^e	24	52	115	2,21	S. Schillaci, Italie	6	45 000
XV ^e	24	52	141	2,71	O. Salenko, Russie H. Stoikov, Bulgarie	6	65 000
XVI ^e	32	64	171	2,67	Ronaldo, Brésil	8	39 000

NOM :

Prénom :

Date : . / . / .



COUPE

du monde

2 0 1 0



Réponds aux questions suivantes en utilisant les trois documents (Rédige des phrases pour les questions 1., 3., 4. et 5.).

1. En quoi peut-on dire que les étudiants de Cambridge ont été des inventeurs du football moderne, en 1 863 ?

On peut dire que

2. Pour les organisateurs, les 4 000 spectateurs présents lors du premier match international signifiaient (*entoure*) :
un encouragement - une mauvaise affaire - un échec - une réussite - une défaite

3. Jusqu'en 1 891, le *penalty* ne fut pas nécessaire. Souligne dans le texte l'extrait qui l'explique.

Comment les conflits entre joueurs étaient-ils réglés avant la mise en place d'un arbitre ?

Les

4. A quoi sert la surface de réparation rectangulaire sur un terrain de football ?

La surface

5. Dans quelle édition de la Coupe du monde y a-t-il eu le plus de buts marqués, entre 1 970 et 1 998 ?

Comment cela peut-il s'expliquer ?

6. L'équipe qui fut 2 fois finaliste sans jamais gagner la Coupe du monde, entre 1 970 et 1 988 :

7. Le nom et la nationalité du meilleur buteur lors de ces huit éditions :

8. Le pays organisateur qui a réuni, en moyenne, le plus de spectateurs par mtch :

9. L'année où il y eut, en moyenne, le plus de buts marqués par match :

10. Nombre de buts marqués en moyenne par match lors de l'édition organisée par l'Espagne :

11. Le pays d'Europe qui a gagné la Coupe du monde deux fois entre 1 970 et 1 998 :

12. La finale au cours de laquelle un seul but fut inscrit opposait : et

13. L'année où la phase finale passa de 16 à 24 équipes qualifiées :

14. Le pays le plus souvent cité dans le palmarès (vainqueurs et finalistes), entre 1 970 et 1 998 :